

Accompagnement personnalisé 3 Nombres décimaux (suite)

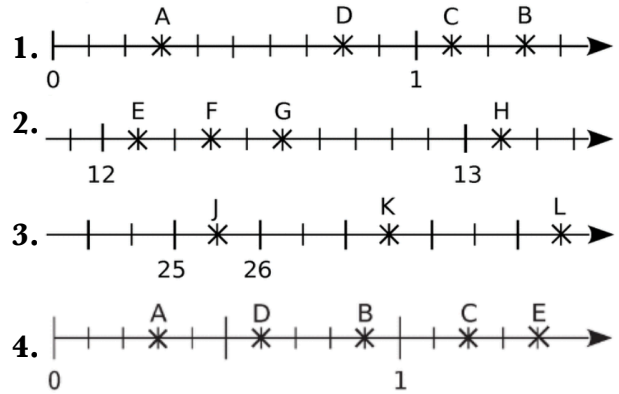
**Exercice 1 :**

Complète les suites logiques.

1.	5,6	5,7				
2.			15	14,8		
3.			9,58	9,59		
4.					3	3,01
5.	5,25	5				


**Exercice 2 :**

Lis les abscisses des points suivants :



**Exercice 3 :**

Huit amis ont participé à une course à pied. Quel temps a réalisé chacun d'eux ? Les ranger dans l'ordre croissant et complète le podium.




**Doc. 2 Des commentaires sur les résultats**

- Tous les amis ont terminé la course.
- Le second, Brian, a fini à douze centièmes de minute de Yannick.
- Alice a devancé Ikram d'un dixième de minute.
- Mélanie a mis quatre-vingt-sept centièmes de minute de plus que Yannick mais elle a devancé Chloé de trente-huit centièmes de minute et Jérémy de cinq dixièmes de minute.


Ordre croissant :

.....









**Exercice 4 :**

Pour un film, on cherche un pingouin ayant les caractéristiques suivantes :

- il doit mesurer entre 0,75 m et 0,85 m ;
- il doit peser entre 4,8 et 5,2 kg ;
- il doit avoir moins de 10 ans.

Candidat retenu :

Trouve le pingouin choisi. Explique ce choix.

					
Fluffy (7 ans)	Pitch (11 ans)	Melman (9 ans)	Pibouli (9 ans)	Hugsy (8 ans)	Rico (8 ans)
0,752 m   4,72 kg	0,8 m   5 kg	0,87 m   4,78 kg	0,705 m   5,05 kg	0,785 m   5,1 kg	0,8 m   5,29 kg

